



DEVOIR COMMUN D'HISTOIRE-GÉOGRAPHIE

Le 1^{er} décembre 2014

I. QUESTIONS (12 points)

Exercice 1 (5 points)

1. Complétez le tableau avec les dates ou les événements qui conviennent.

Ve siècle av. J.-C.	Périclès
X-XII siècles	L'âge des églises romanes
Août 1789	Déclaration des droits de l'homme et du citoyen
1848-1852	La seconde république

2. Citez et datez deux exemples de la violence de masse produite pendant la première guerre mondiale.

- Verdun 1916
- Le génocide arménien 1915-1916

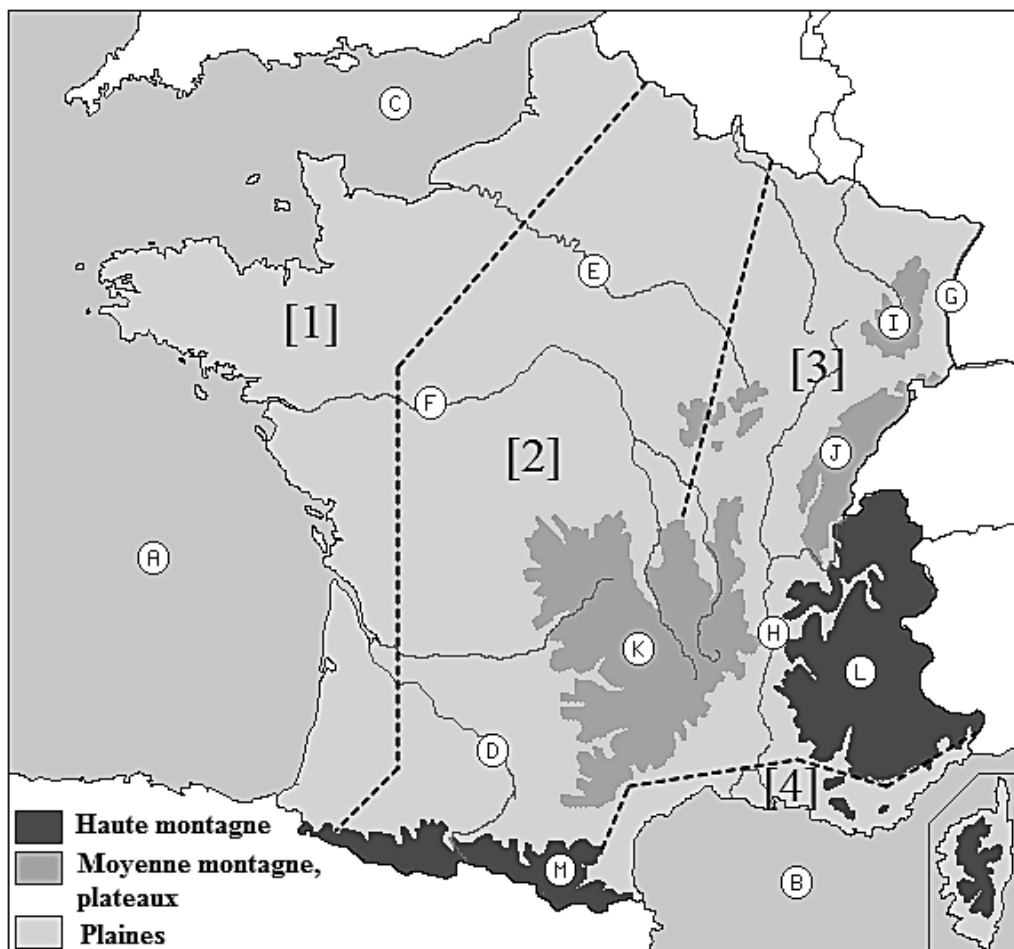
3. Datez et expliquez comment les Communistes prennent le pouvoir en Russie.

Les Communistes et leur chef Lénine prennent le pouvoir en 1917, par une révolution contre le Tsar Nicolas II, alors que la population est de plus en plus critique contre les conditions de vie aggravées par la première guerre mondiale.

4. Datez et expliquez comment Hitler et les Nazis prennent le pouvoir en Allemagne.

Hitler et les Nazis prennent le pouvoir en 1933, grâce à la victoire nazie aux élections législatives, dans une Allemagne en crise (chômage, dégradation des conditions de vie). Hitler est chancelier le 30 janvier 1933.

Exercice 2 (7 points)



D : Garonne

E : Seine

F : Loire

G : Rhin

H : Rhône

I : Vosges

J : Jura

K : Massif Central

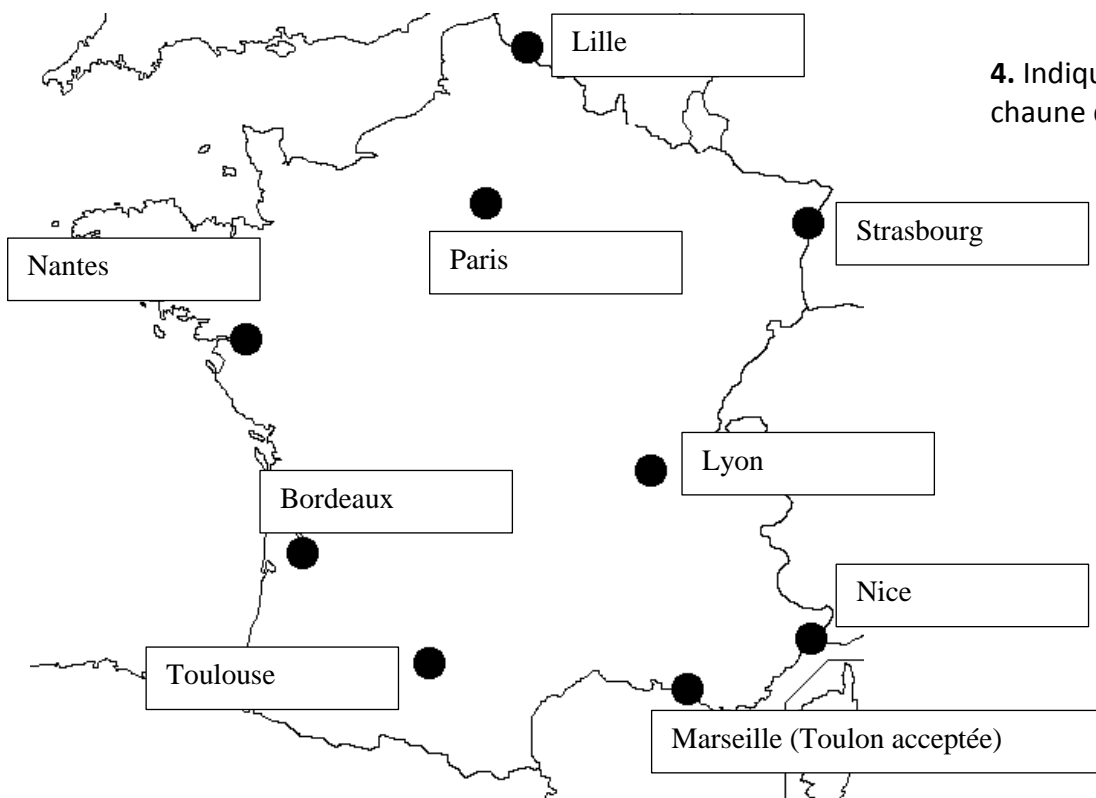
L : Alpes

M : Pyrénées

[1] : Océanique

[4] : Méditerranéen

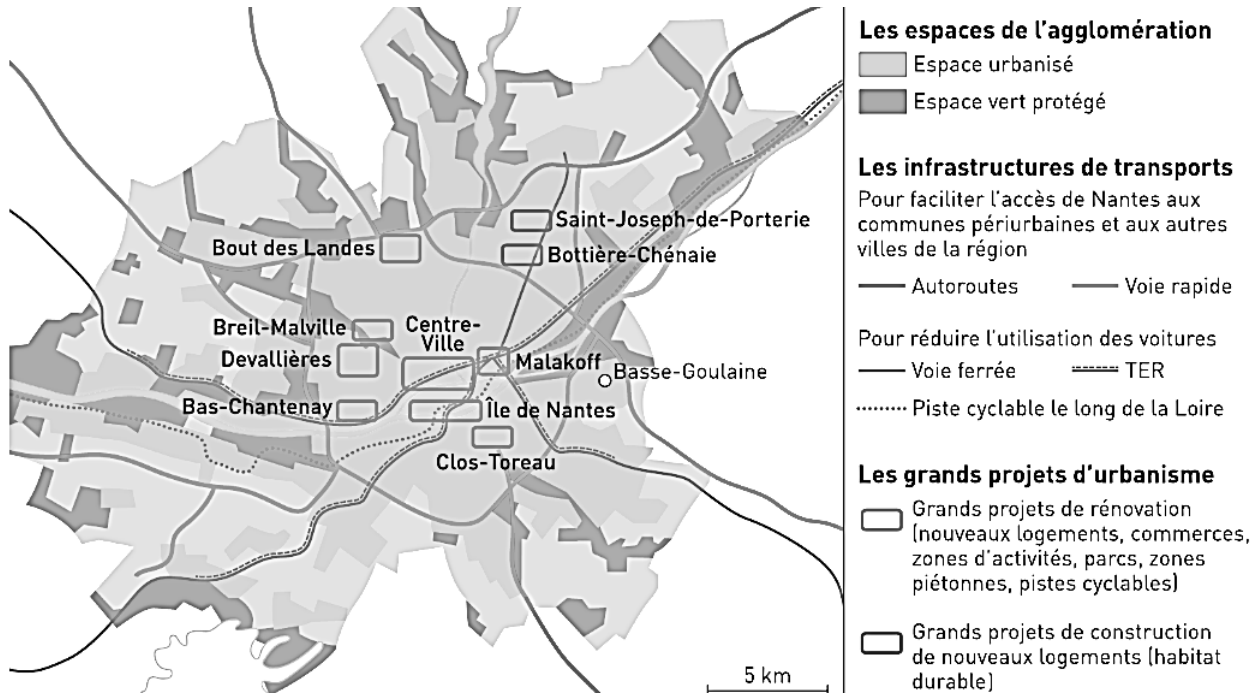
1. Identifiez les noms des fleuves (D, E, F, G, H).
2. Identifiez les noms des massifs montagneux (I, J, K, L, M).
3. Précisez les noms des climats qui caractérisent les espaces [1] et [4].



4. Indiquez sur la carte le nom de chaîne des villes.

II. TRAVAIL SUR DOCUMENT (8 points)

Exercice 1 (4 points)



1. Expliquez ce qu'est une aire urbaine en vous aidant de l'exemple de Nantes (1pt).

Une aire urbaine est composée d'un centre, d'une banlieue et de communes périurbaines.

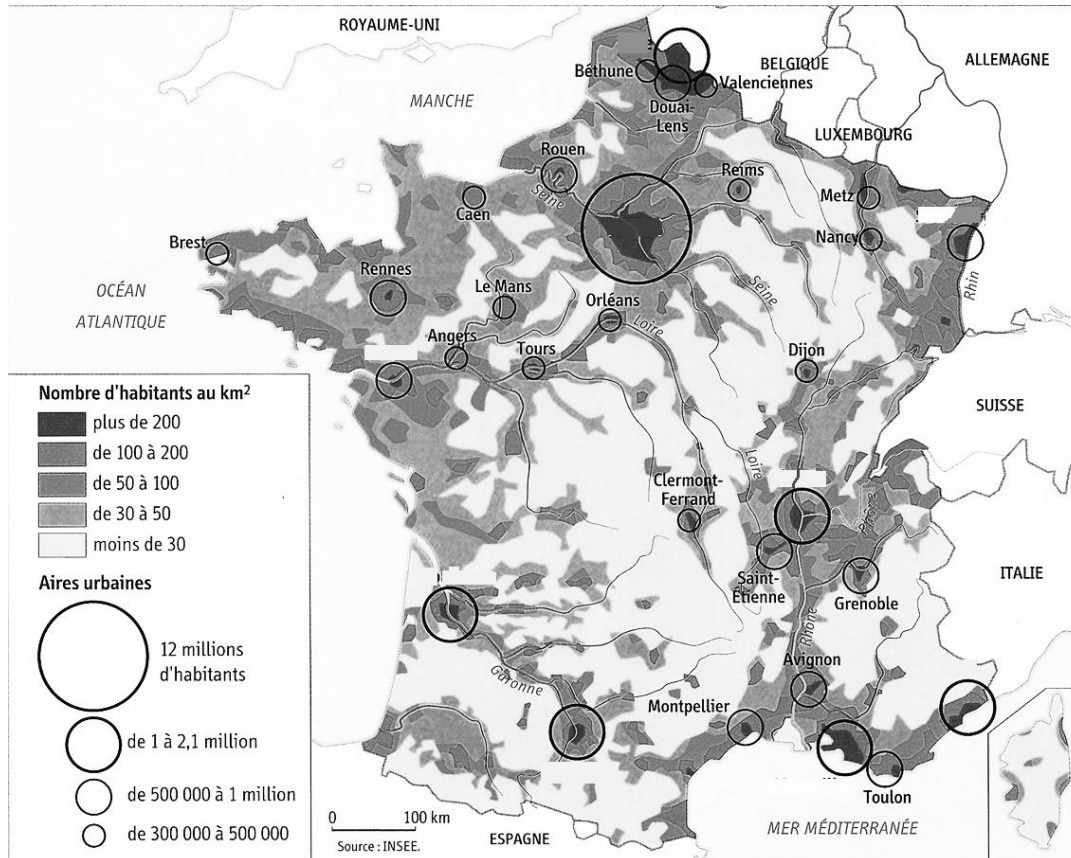
2. Expliquez quelles sont les conséquences de l'étalement des villes sur les campagnes. (1.5 pt)

- Mitage des campagnes = étalement de la ville sur les campagnes, par la multiplication des lotissements, des villas ; multiplication des voies de transports avec une hausse de la mobilité (des déplacements) des habitants.
- Ceci entraîne la dégradation des paysages, une augmentation de la pollution (circulation automobile accrue), de nombreux embouteillages.

3. Comment les villes tentent-elles de limiter leur étalement ? (1.5 pt)

Les villes tentent de valoriser leur centre-ville, pour attirer de nouveaux habitants, afin qu'ils n'aillent pas dans les communes périurbaines : rénovation et réhabilitation d'immeubles, construction de nouveaux logements modernes (normes écologiques), amélioration du cadre de vie (limitation de la circulation automobile, tramway, zones piétonnes) ; création de nouveaux centres d'activités (quartier des affaires, zones commerciales).

Exercice 2 (4 points)



1. Donnez un titre à la carte. (1 point)

Le peuplement de la France métropolitaine

2. Décrivez le peuplement du territoire métropolitain. (2 points)

Les zones peuplées = les villes, les littoraux, les vallées fluviales, les plaines, les frontières.

Les zones peu peuplées = les campagnes, la « diagonale du vide », les montagnes.

3. Expliquez le peuplement du territoire métropolitain. (2 points)

Les zones les plus peuplées sont : les zones les plus dynamiques (villes, littoraux), les espaces qui profitent de l'ouverture des frontières, les régions d'accueil des populations immigrés.

Les zones peu peuplées sont pénalisées par le relief (montagnes).